



Eşeğin biri, ormanda gezerken bir aslan postu bulmuş. Postu giyip aslan gibi kükmeye başlamış. Sesini hangi hayvan duysa bir deliğe saklanmış. Kükreye kükreye dolaşırken kulakları posttan çıkıvermiş. Bunu gören hayvanlar başlamışlar eşekle alay etmeye.

Ne zamandır eşeğini arayan değirmenci ormandaki sesleri duyunca çıkıp gelmiş. Eşeği önüne katıp değirmenin yolunu tutmuş.

Uykusundan yeni uyanan ayı, olanlardan habersizmiş. Adamın aslanı döve döve götürdüğünü görünce:

-Vay canına! Kim bu kahraman diye sormuş.

Hayvanlar ona "Günaydın!" diyerek eşekten sonra bir de ona kahkaha atmışlar.

La Fontaine Masalları

(İlk 4 soruyu metne göre cevaplayınız.)

1) Metinde geçen olay ile ilgili hangi ifade yanlıştır?

- A) Olay ormanda geçmektedir.
- B) Olayın başkahramanı aslandır.
- C) Olayın zamanı belli değildir.




2) Aşağıdaki olaylardan hangisi metinde geçmemektedir?

- A) Eşeğin hayvanları korkutması
- B) Hayvanların değirmene gitmesi
- C) Ayının olanlardan habersiz olması

3) Aşağıdakilerden hangisi metin için uygun bir başlıktır?

- A) Uykucu Ayı
- B) Değirmencinin Çaresizliği
- C) Aslan Postu Giyen Eşek

4) Aşağıdaki hayvanlardan hangisi metinde geçmemektedir?

- A) 
- B) 
- C) 

5) Hangi seçenekte eşleştirilen sözcükler zıt anlamlı değildir?

- A)

aşağı	yukarı
-------	--------
- B)

uzun	ince
------	------
- C)

eski	yeni
------	------

6) Bu soru çok kolay gözüküyor.

Yukarıdaki cümlede altı çizili sözcüklerin zıt anlamlıları sırası ile hangi seçenekte verilmiştir?

- A) cevap-zor
B) sual-basit
C) yanıt-hafif

7)

7	14	22	33
45	58	64	73

Yukarıdaki tabloda verilen doğal sayılardan kaç tanesi çift sayıdır?

- A) 4 B) 6 C) 8

8) Hangi işlemin sonucu tek sayıdır?

- A) $45 + 53$
B) $74 - 32$
C) $57 + 20$

9) Üç basamaklı en küçük doğal sayı ile ilgili verilen bilgilerden hangisi doğrudur?

- A) Tek sayıdır.
B) Çift sayıdır.
C) 1 eksiği çift sayıdır.

10)



Yukarıda Romen rakamları ile verilen okul araç gereçlerinin fiyatları hangi seçenekte doğru verilmiştir?

	<u>Kalemlik</u>	<u>Canta</u>	<u>Sözlük</u>
A)	8	20	12
B)	13	10	7
C)	13	20	7

11) Aşağıdaki işlemlerden hangisinin sonucu yanlıştır?

- A) $6 \times 3 = XVIII$
B) $18 \div 2 = VIII$
C) $40 - 30 = X$

12) Aşağıdaki sayılardan hangisi diğerlerinden daha büyüktür?

- A) IX B) VIII C) XI

13) Tat alma duyu organı hangisidir?



14) Yandaki organ hangi duyuyu algılar?

- A) Görme
B) Koklama
C) İşitme



15) "Görmemizi sağlayan duyu organı"

Yukarıdaki cümle hangi sözcük ile tamamlanmalıdır?

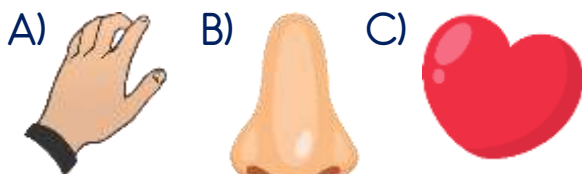
- A) dildir. B) gözdür. C) eldir.

16) Hangi duyu organımız sayesinde ders zilini duyup sınıfa koşarız?



- A) Dil B) Burun C) Kulak

17) Hangisi bir duyu organı değildir?



18) Hangisi okullarda eğitim ve öğretim faaliyetleri dışında düzenlenen etkinliklerden biri değildir?

- A) Milli bayram kutlamaları
B) Kulüp çalışmalarları
C) Asker uğurlama

19)

Telefon, tablet, bilgisayar gibi elektronik aletler ilgimi çekiyor.



Verdiği bilgiye göre Eymen için hangi öğrenci kulübü uygundur?

- A) Kütüphanecilik Kulübü
B) Bilim ve Teknoloji Kulübü
C) İzcilik Kulübü

20) Okulda yapılan hangi etkinlik toplumsal dayanışmayı arttırmış olur?

- A) Koro çalışması
B) Belirli gün ve hafta kutlaması
C) Yardım kermesi

Cevap Anahtarı

1-B 2-B 3-C 4-C 5-B 6-A 7-A 8-C 9-B 10-C 11-B 12-C 13-A 14-B 15-B 16-C
17-C 18-C 19-B 20-C

Sınav Ait Konu ve Kazanım Listesi

Ders	Konu	Kazanım
Türkçe	Zıt Anlamlı Kelimeler	
Matematik	Tek ve Çift Sayılar Romen Rakamları	M.3.1.1.8. Tek ve çift doğal sayıları kavrar. M.3.1.1.9. Tek ve çift doğ say topl model üzer inceleyerek toplamların tek mi çift mi olduğunu ifade eder. M.3.1.1.10. 20'ye kadar olan Romen rakamlarını okur ve yazar.
Fen Bilimleri	Duyu Organlarımız ve Görevleri	F.3.2.1.1. Duyu organlarının önemini fark eder. F.3.2.1.2. Duyu organlarının temel görevlerini açıklar.
Hayat Bilgisi	Okulumuzdaki Sosyal Etkinliklerimiz	HB.3.1.6. Okulunun bireysel ve toplumsal katkılarının fark eder.